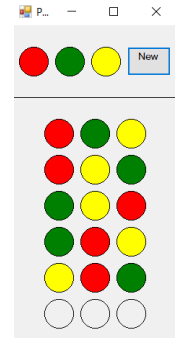
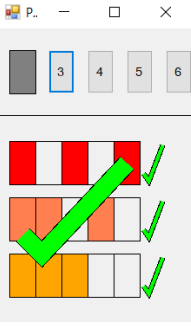
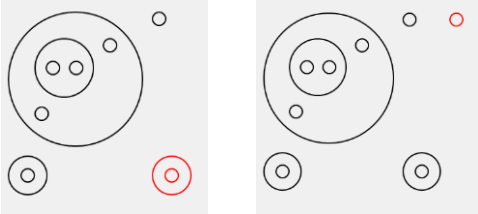
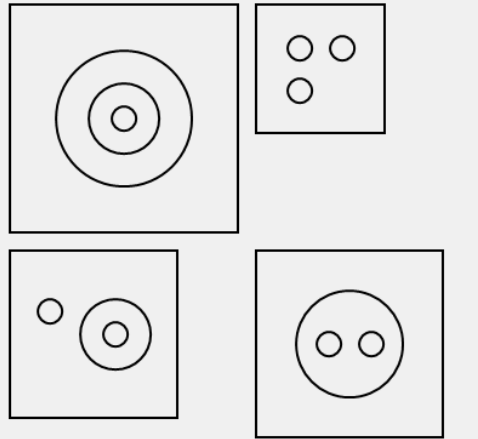


הסבר על 4 המשחקים של גן אדם

הסבר	תמונה	שם המשחק
<p>בעזרת העכבר הורידו את הצבעים לתוך העיגולים שנמצאים למטה.</p> <p>המטרה היא לסדר את שלשת הצבעים בשורה ב 6 סדרים שונים.</p>		<p>1. תמורות</p>
<p>צריך לפרק את המספרים למספרים קטנים או שווים להם כשאין חשיבות לסדר.</p> <p>לדוגמא:</p> <p>$3=1+1+1$ $3=1+2$ $3=3$</p> <p>המשחק מאפשר לחשב את החלוקות של 3,4,5,6</p>		<p>2. חלוקות המספר</p>
<p>יש לצמצם את המעגלים באמצעות שני חוקי הצורה:</p> <p>1. מעגל ליד מעגל - הקישו על אחד המעגלים פעמיים והוא יעלם</p> <p>2. מעגל בתוך מעגל - הקישו על שניהם והם ייעלמו</p>		<p>3. חוקי הצורה</p>
<p>יש למצוא את כל האפשרויות למקם מספר מעגלים שהם לא נוגעים או חותכים זה את זה.</p> <p>ראשית צרו בעזרת העכבר את הריבועים ובתוכם צרו את המעגלים.</p> <p>לדוגמא 4 הצורות השונות של המספר 3.</p>		<p>4. צורות המספר</p>