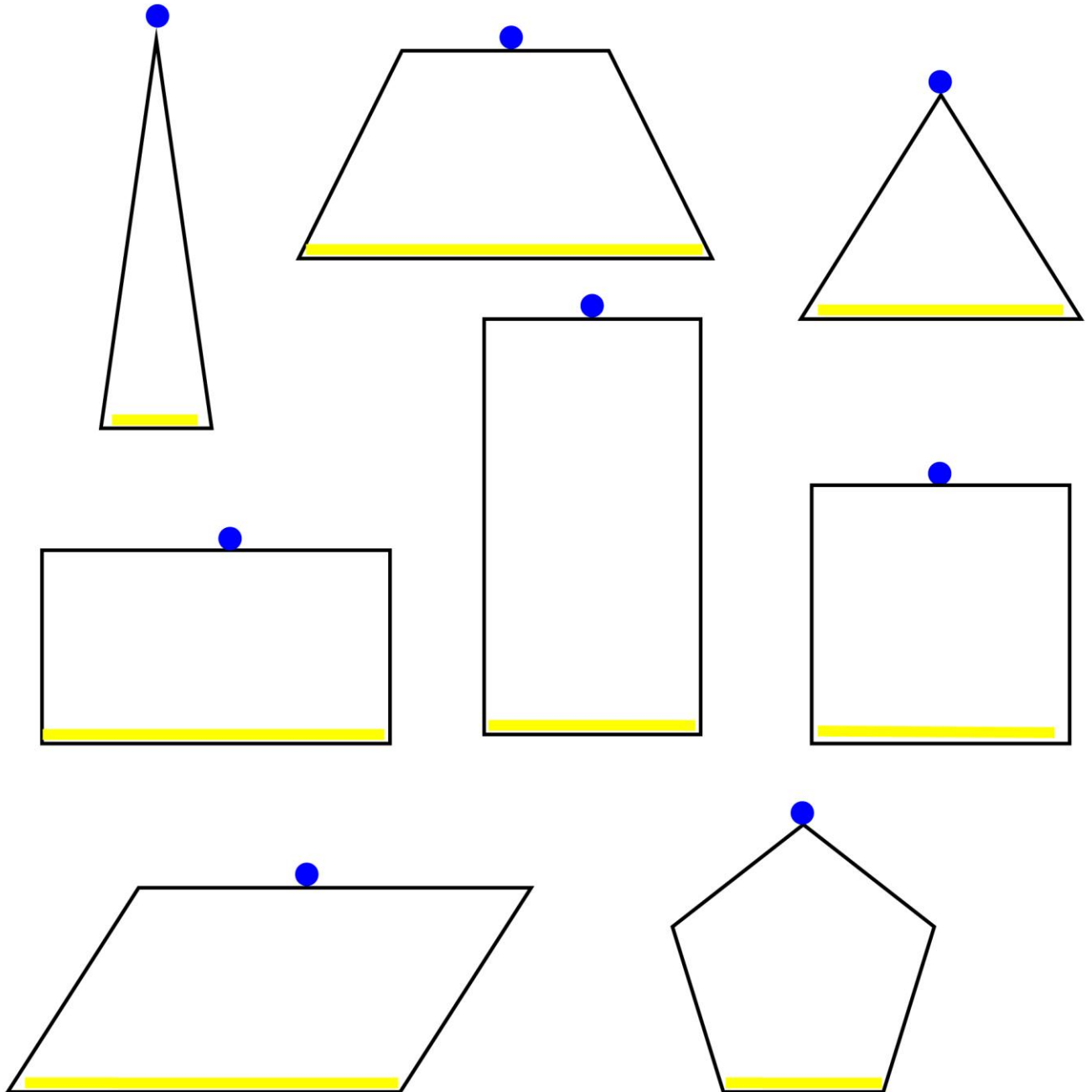





"מהו גובה?" - דף עבודה מספר 4 - חלק א.

בכל אחת מהצורות הבאות מסומן הבסיס ומסומנת הנקודה ממנה יש להוריד את הגובה.

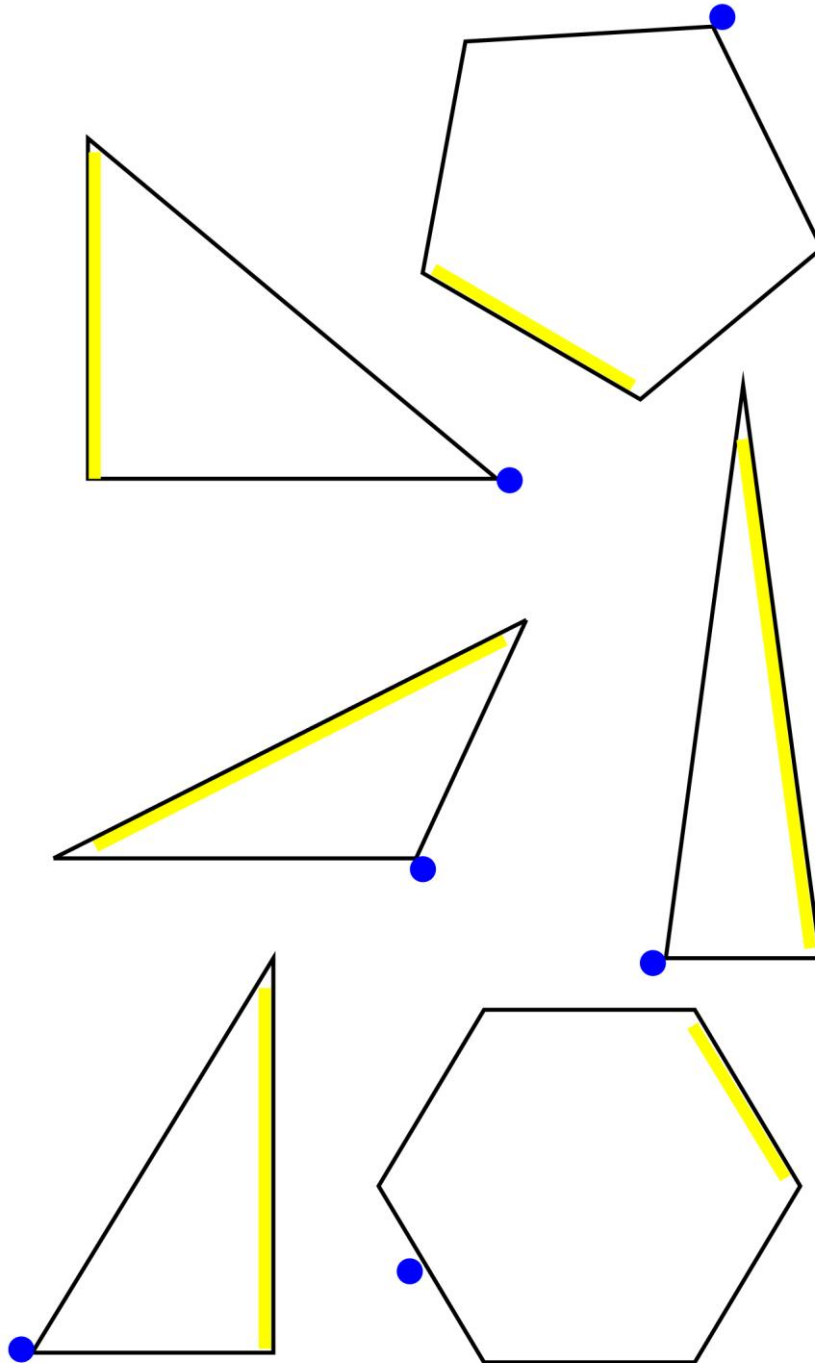
שרטטו את הגובה המתאים בכל אחת מהן:






**"מהו גובה?" - דף עבודה מספר 4 - חלק ב.**

בכל אחת מהצורות הבאות מסומן הבסיס ומסומנת הנקודה ממנה יש להוריד את הגובה. שרטטו את הגובה המתאים בכל אחת מהן:





"מהו גובה?" - דף עבודה מספר 4 - חלק ג.

בכל אחת מהצורות הבאות בחרו צלע כלשהי בתור בסיס וסמנו אותה בטוש צהוב זוהר.

לאחר מכן מצאו על היקף הצורה את הנקודה המרוחקת ביותר מהבסיס שבחרתם ואז שרטטו את הגובה המתאים.

