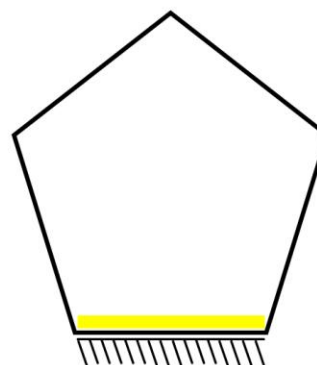
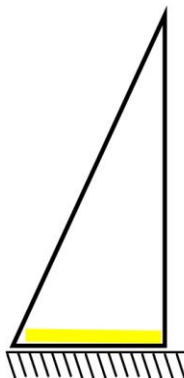
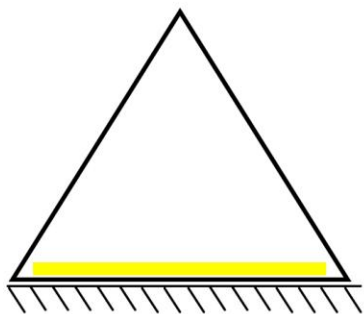
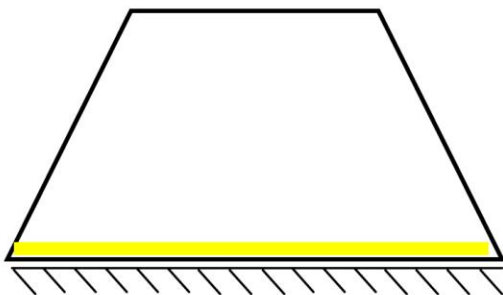
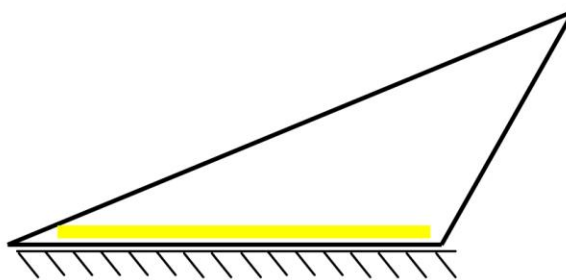
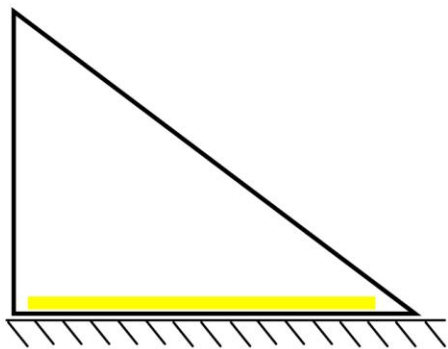


"מהו גובה?" - דף עבודה מספר 3 - חלק א.

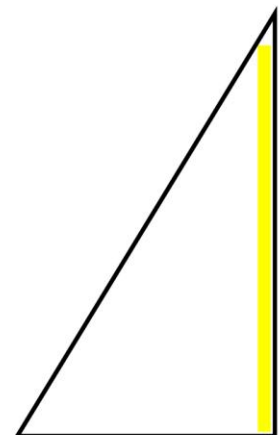
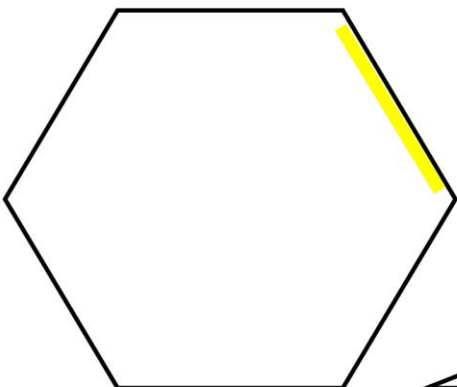
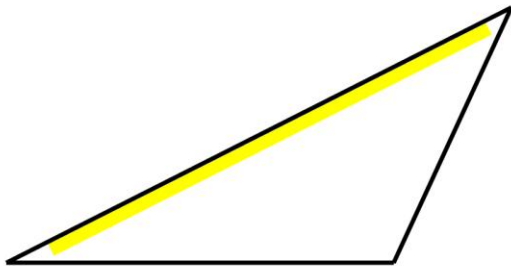
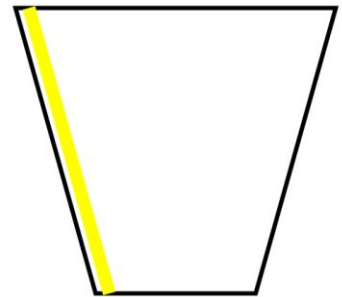
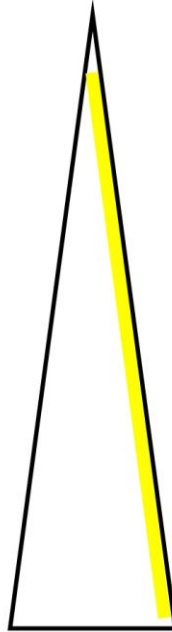
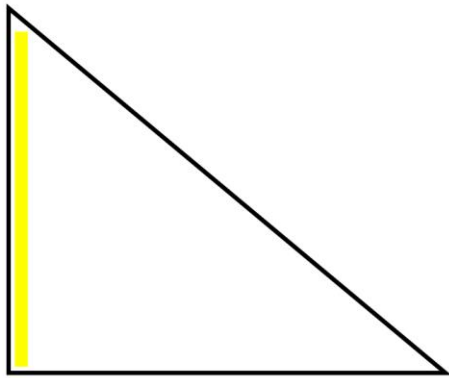
מצאו על היקף הצורה את הנקודה המרוחקת ביותר מהבסיס המסומן:






"מהו גובה?" - דף עבודה מספר 3 - חלק ב.

מצאו על היקף הצורה את הנקודה המרוחקת ביותר מהבסיס המסומן:





"מהו גובה?" - דף עבודה מספר 3 - חלק ג.

בכל אחת מהצורות הבאות בחרו צלע כלשהי בתור בסיס וסמנו אותה בטוש צהוב זוהר.
לאחר מכן מצאו על היקף הצורה את הנקודה המרוחקת ביותר מהבסיס שבחרתם.

