



## מבחן במתמטיקה - לבוגרי כיתה א' מוכנות לכיתה ב'

1. א. כתבו בספרות את המספר ארבעים ושתיים. \_\_\_\_\_

ב. כתבו במלים את המספר 95. \_\_\_\_\_

2. סמנו  $=$ ,  $>$ ,  $<$ .

ד.  $80 \text{ } \underline{\hspace{1cm}} \text{ } 3 \text{ עשרות}$

א.  $32 \text{ } \underline{\hspace{1cm}} \text{ } 23$

ה.  $90 \text{ } \underline{\hspace{1cm}} \text{ } 40$

ב.  $68 \text{ } \underline{\hspace{1cm}} \text{ } 67$

ו.  $15 - 5 \text{ } \underline{\hspace{1cm}} \text{ } 25 - 15$

ג.  $21 \text{ } \underline{\hspace{1cm}} \text{ } 21$

3. השלימו את הסדרות.

א.  $34, 36, 38, \underline{\hspace{1cm}}, \underline{\hspace{1cm}}, \underline{\hspace{1cm}}$

ב.  $45, 55, 65, \underline{\hspace{1cm}}, \underline{\hspace{1cm}}, \underline{\hspace{1cm}}$

4. הקיפו את המספרים האי-זוגיים.

א. 87    ב. 42    ג. 65    ד. 14    ה. 80    ו. 5

5. הוסיפו מספר כך שתתקבל תוצאה זוגית ופתרו.

א.  $6 + \underline{\hspace{1cm}} = \underline{\hspace{1cm}}$

ב.  $\underline{\hspace{1cm}} + 7 = \underline{\hspace{1cm}}$

**6. פתרו.**

מיכל קנתה חבילה ובה 21 טושים.

סבתא שלה קנתה לה במתנה עוד 8 טושים זוהרים.

כמה טושים יש למיכל בסך הכל?

תרגיל:

תשובה:

**7. פתרו את התרגילים.**

ה.  $12 - 7 = \underline{\quad}$

א.  $9 + 7 = \underline{\quad}$

ו.  $57 - 3 = \underline{\quad}$

ב.  $34 + 4 = \underline{\quad}$

ז.  $63 - 20 = \underline{\quad}$

ג.  $83 + 10 = \underline{\quad}$

ח.  $80 - 30 = \underline{\quad}$

ד.  $40 + 20 = \underline{\quad}$

**8. השלימו על הקו את המספר המתאים.**

ד.  $\underline{\quad} - 3 = 14$

א.  $18 - \underline{\quad} = 8$

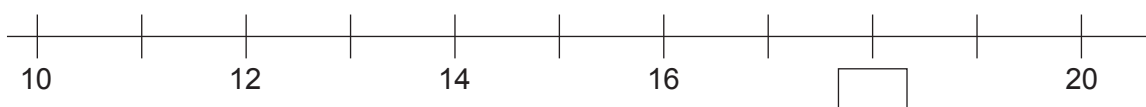
ה.  $19 - \underline{\quad} = 19$

ב.  $10 + \underline{\quad} = 15$

ג.  $11 + \underline{\quad} = 17$

**9. הקיפו את המספר החסר על ישר המספרים.**

א. 8      ב. 18      ג. 80      ד. 21



**10. פתרו.**

לאהד יש אָפּף ובו 19 מַפְתָּחות. אהד נתן לגבי 13 מַפְתָּחות מתוך האָפּף שלו.  
כמה מַפְתָּחות נשארו לאהד?

תרגיל:

---

תשובה:

---


**11. השלימו.**

$$\boxed{\phantom{00}} + \boxed{\phantom{00}} = 16 \quad \text{א.}$$

$$\boxed{\phantom{00}} - \boxed{\phantom{00}} = 16 \quad \text{ב.}$$

$$\boxed{\phantom{00}} \times \boxed{\phantom{00}} = 16 \quad \text{ג.}$$

**12. פתרו את התרגילים.**

שימו  תרגיל ב קשור לתרגיל א וגם תרגיל ד קשור לתרגיל ג.

$$3 + 3 + 3 = \underline{\quad\quad} \quad \text{ג.}$$

$$4 + 4 + 4 = \underline{\quad\quad} \quad \text{א.}$$

$$3 \times 3 = \underline{\quad\quad} \quad \text{ד.}$$

$$3 \times 4 = \underline{\quad\quad} \quad \text{ב.}$$



### 13. פתרו.

תמך קבלה 10 מדבקות של כוכבים.

תמך החליטה לחלק את המדבקות לשתי חבורות.

הקיפו את המדבקות שתקבל כל חברה.



כמה מדבקות של כוכבים תקבל כל חברה?

תרגיל:

---

תשובה:

---

### 14. פתרו את התרגילים.

ג.  $12 : 2 = \underline{\quad}$

א.  $2 \times 8 = \underline{\quad}$

ד.  $10 : 5 = \underline{\quad}$

ב.  $5 \times 3 = \underline{\quad}$

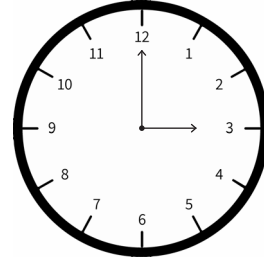
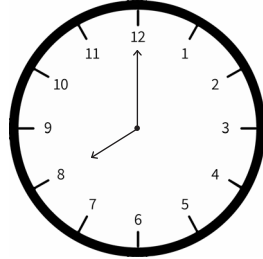
### 15. הקיפו את האותיות שלידן מציר מצלע.





16. כתבו את השעה שמראים המחוגים של השעון.

א. \_\_\_\_\_ ב. \_\_\_\_\_



17. א. כתבו מתחת לכל מצלע את שמו.

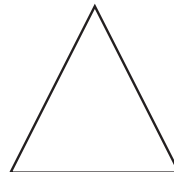
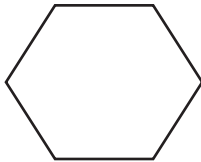
תוכלו לבחר ממחסן הצורות שלמטה.

(4)

(3)

(2)

(1)



\_\_\_\_\_

משלש, רבוע, מלבן, מחמש, מששה, משבע, מתמן

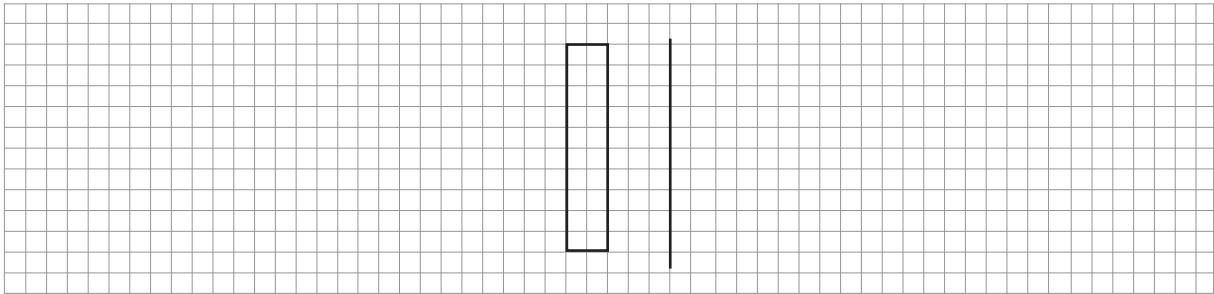
ב. הקיפו את המצלעים, שכל הזוויות שלהם ישרות.

ג. כמה צלעות יש למשלש? \_\_\_\_\_

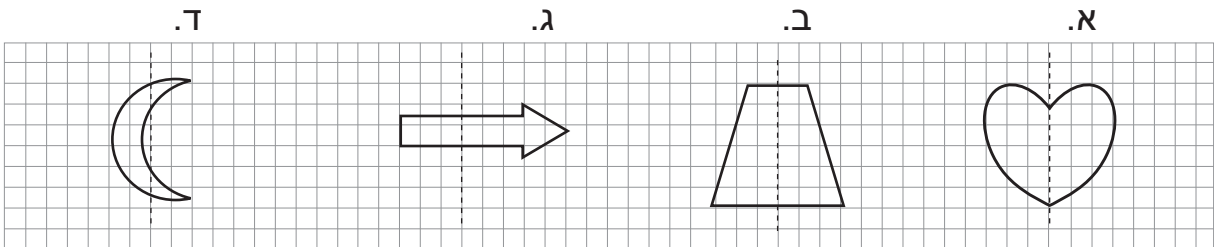
ד. כמה קדקודים יש למחמש? \_\_\_\_\_



18. צירו שקוף של הצורה הנתונה ביחס לקו המסמן.

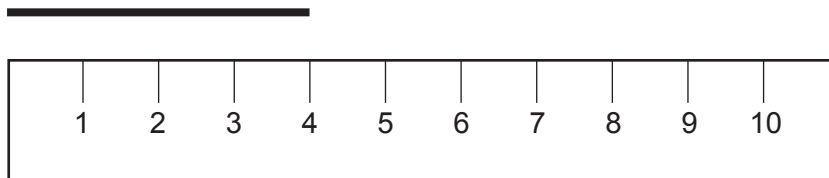


19. הקיפו את האותיות שלידן יש צורה סימטרית ביחס לקו המסמן.



20. פתרו.

א. מה ארכו של הקו שמסמן מעל הסרגל? \_\_\_\_\_



ב. העזרו בסרגל וכתבו מה אורך הקו שלמטה. \_\_\_\_\_





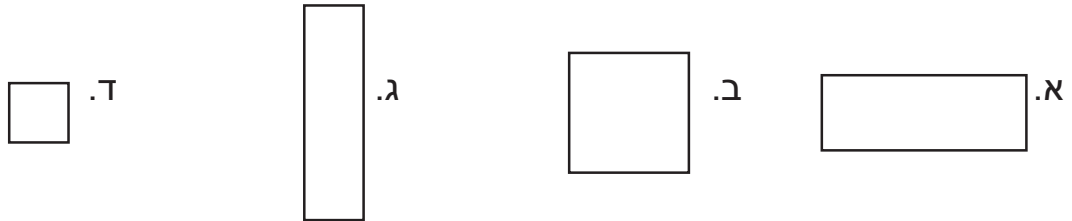
21. מדדו בעזרת סרגל את ארך צלעות המלבן וחשבו את הקפו.



תרגיל: \_\_\_\_\_

תשובה: \_\_\_\_\_

22. הקיפו את המלבנים שאינם רבועים.



23. פתרו.

יאיר קונה מתנה לאחיו לכבוד יום ההולדת שלו. ליאיר 20 שקלים.  
עזרו ליאיר לבחור שתי מתנות שיעלו לו בדיוק 20 שקלים.

א. אפשרות ראשונה: \_\_\_\_\_ וגם \_\_\_\_\_

ב. אפשרות שניה: \_\_\_\_\_ וגם \_\_\_\_\_

**המתנות בחנות**

כדור רגל	דוקים	קלפים	כדור	מחזיק מפתחות
29 שקלים	7 שקלים	18 שקלים	13 שקלים	2 שקלים



ג. איזו מתנה יאיר לא יכל לקנות כי חסר לו כסף? \_\_\_\_\_

ד. כמה כסף חסר לו?

תרגיל: \_\_\_\_\_

תשובה: \_\_\_\_\_

**נהדר!**

**עבדתם מקסים!**





## תשובון למבחן במתמטיקה - לבוגרי כיתה א' מוכנות לכיתה ב'

1. א. 42 ב. תשעים וְחָמֵשׁ

2. א.  $32 > 23$  ב.  $68 > 67$  ג.  $21 = 21$   
ד.  $3 < 80$  ה.  $90 > 40$  ו.  $15 - 5 = 25 - 15$

3. א. 34, 36, 38, 40, 42, 44  
ב. 45, 55, 65, 75, 85, 95

4. א, ג, ו.

5. א. יש מספר תשובות נכונות, בכלן צריך להוסיף מספר זוגי. למשל:  $6 + 4 = 10$   
ב. יש מספר תשובות נכונות, בכלן צריך להוסיף מספר אי-זוגי. למשל:  $1 + 7 = 8$

6. למיכל 29 טושים.

7. א. 16 ב. 38 ג. 93 ד. 60 ה. 5 ו. 54 ז. 43 ח. 50

8. א. 10 ב. 5 ג. 6 ד. 17 ה. 0

9. ב

10. לאהד נשארו 6 מפתחות.

11. א. יש מספר תשובות נכונות, למשל:  $10 + 6 = 16$   
ב. יש מספר תשובות נכונות, למשל:  $20 - 4 = 16$   
ג. יש מספר תשובות נכונות, למשל:  $2 \times 8 = 16$



12. א. 12      ב. 12      ג. 9      ד. 9

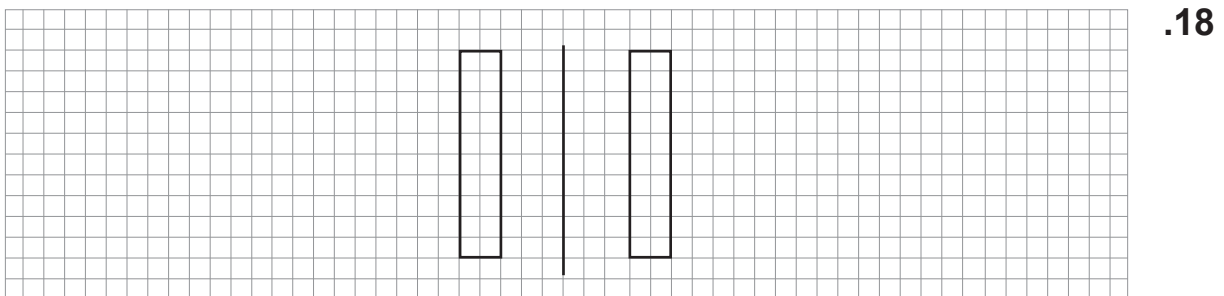
13. כל חברה תקבל 5 מדבקות של כוכבים.

14. א. 16      ב. 15      ג. 6      ד. 2

15. צורות א, ג.

16. א. 3:00      ב. 8:00

17. א. (1) מלבן      (2) משולש      (3) רבוע      (4) מששה  
ב. צורות 1, 3.      ג. 3 צלעות      ד. 5 קדקודים



19. צורות א, ב.

20. א. 4 ס"מ.      ב. 6 ס"מ.

21. 18 ס"מ.

22. צורות א, ג.

23. א. אפשרות א': כדור וגם דוקים.  
ב. אפשרות ב': מחזיק מפתחות וגם קלפים.  
ג. כדור רגל.  
ד. חסרים ליאר 9 שקלים.