

מתמטיקה

5 יחידות לימוד – שאלון ראשון

הוראות לנבחן

- א. משך הבחינה: שלוש שעות וחצי.
- ב. מבנה השאלון ומפתח ההערכה: בשאלון זה שלושה פרקים.
- | | | | | | | |
|-----------|---|---|---|------|---|------------|
| פרק ראשון | — | אלגברה והסתברות | — | 20×2 | — | 40 נקודות |
| פרק שני | — | גאומטריה וטריגונומטריה במישור | — | 20×1 | — | 20 נקודות |
| פרק שלישי | — | חשבון דיפרנציאלי ואינטגרלי של פולינומים, של פונקציות שורש, של פונקציות רציונליות ושל פונקציות טריגונומטריות | — | 20×2 | — | 40 נקודות |
| | | | — | סה"כ | — | 100 נקודות |
- ג. חומר עזר מותר בשימוש:
- (1) מחשבון לא גרפי. אין להשתמש באפשרויות התכנות במחשבון הניתן לתכנות. שימוש במחשבון גרפי או באפשרויות התכנות במחשבון עלול לגרום לפסילת הבחינה.
 - (2) דפי נוסחאות (מצורפים).
- ד. הוראות מיוחדות:
- (1) אל תעתיק את השאלה; סמן את מספרה בלבד.
 - (2) התחל כל שאלה בעמוד חדש. רשום במחברת את שלבי הפתרון, גם כאשר החישובים מתבצעים בעזרת מחשבון. הסבר את כל פעולותיך, כולל חישובים, בפירוט ובצורה ברורה ומסודרת. חוסר פירוט עלול לגרום לפגיעה בציון או לפסילת הבחינה.
 - (3) לטייטה יש להשתמש במחברת הבחינה. שימוש בטייטה אחרת עלול לגרום לפסילת הבחינה.

ההנחיות בשאלון זה מנוסחות בלשון זכר ומכוונות לנבחנות ולנבחנים כאחד.

בהצלחה!

השאלות

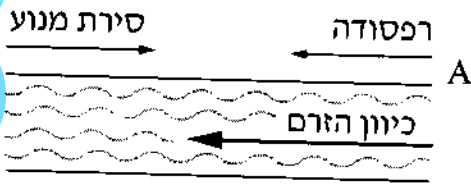
שים לב! הסבר את כל פעולותיך, כולל חישובים, בפירוט ובצורה ברורה. חוסר פירוט עלול לגרום לפגיעה בציון או לפסילת הבחינה.

פרק ראשון – אלגברה והסתברות (40 נקודות)

ענה על שתיים מן השאלות 1-3 (לכל שאלה – 20 נקודות).

שים לב! אם תענה על יותר משתי שאלות, ייבדקו רק שתי התשובות הראשונות שבמחברתך.

1. העיירות A ו-B נמצאות על גדת נהר הזרם במהירות קבועה. כיוון הזרם הוא מ-A ל-B. מן העיירה B יצאה סירת מנוע לכיוון העיירה A. הסירה שטה נגד כיוון הזרם. באותו הזמן יצאה רפסודה מן העיירה A לכיוון העיירה B. הרפסודה שטה עם כיוון הזרם. מהירות סירת המנוע במים עומדים היא קבועה וגדולה פי 4 ממהירות הזרם של הנהר. מהירות הרפסודה במים עומדים היא אפס. במים זורמים הרפסודה שטה עם הזרם. הסירה והרפסודה נפגשו 3 שעות ו-45 דקות אחרי יציאתן לדרך והמשיכו בדרכן. סירת המנוע הגיעה לעיירה A ומיד הסתובבה ושטה בחזרה לעיירה B. כאשר סירת המנוע הגיעה לעיירה B, הרפסודה הייתה במרחק של 35 ק"מ מן העיירה B.
 - א. חשב את מהירות הזרם ואת מהירות סירת המנוע במים עומדים.
 - ב. בדרך חזרה לעיירה B פגשה סירת המנוע את הרפסודה בפעם השנייה. כמה זמן עבר מרגע יציאתה של הרפסודה מן העיירה A עד שהסירה והרפסודה נפגשו בפעם השנייה?



2. נתונה סדרה כללית a_n .

נסמן ב- S_n את סכום n האיברים הראשונים בסדרה a_n .

נתון: $S_n = k - \frac{1}{3^n + 1}$ לכל n טבעי. k הוא מספר קבוע.

א. הבע את a_1 ואת האיבר הכללי a_n עבור $n > 1$ באמצעות n ו- k במידת הצורך.

ב. מצא את k שעבורו הסדרה a_n היא סדרה הנדסית. נמק.

נגדיר: $T = a_2^2 + a_5^2 + a_8^2 + \dots$ (סכום ריבועי כל איבר שלישי בסדרה a_n החל ב- a_2).

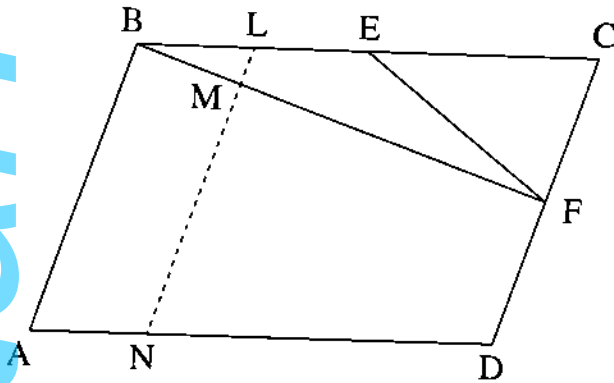
ג. חשב את T .

3. בקופסה I יש 10 כדורים, כמה מהם כחולים והשאר אדומים, ובקופסה II יש 7 כדורים כחולים ו-3 כדורים אדומים. מוציאים באקראי כדור מקופסה I. אם יצא כדור אדום, מעבירים אותו לקופסה II. אם יצא כדור כחול, מחזירים אותו לקופסה I. שוב מוציאים באקראי כדור מקופסה I, ושוב, אם יצא כדור אדום, מעבירים אותו לקופסה II, ואם יצא כדור כחול, מחזירים אותו לקופסה I. לאחר מכן מוציאים באקראי כדור אחד מקופסה II.
- א. נתון כי ההסתברות שאחרי שתי ההוצאות מקופסה I יועבר כדור אדום אחד בלבד מקופסה I לקופסה II היא $\frac{19}{36}$.
- חשב את מספר הכדורים הכחולים שהיו בקופסה I לפני ההוצאה הראשונה.
- ענה על הסעיפים ב-ג עבור מספר הכדורים הכחולים שחישבת בסעיף א.
- ב. מהי ההסתברות שהכדור שהוציאו מקופסה II הוא כדור אדום?
- ג. ידוע שהכדור שהוציאו מקופסה II הוא כדור אדום. מהי ההסתברות שאחרי שהוציאו את הכדור האדום מקופסה II נשארו בה שלושה כדורים אדומים בדיוק?

פרק שני — גאומטריה וטריגונומטריה במישור (20 נקודות)

ענה על אחת מן השאלות 4-5.

שים לב! אם תענה על יותר משאלה אחת, תיבדק רק התשובה הראשונה שבמחברתך.



4. המרובע ABCD הוא מקבילית.

הזווית A היא זווית חדה.

הנקודה E היא אמצע הצלע BC

והנקודה F היא אמצע הצלע CD

(ראה ציור).

א. שטח המשולש ECF הוא S.

הבע את שטח המקבילית ABCD

באמצעות S. נמק את תשובתך.

ב. הנקודה L היא אמצע הקטע BE.

דרך הנקודה L העבירו ישר המקביל ל-AB וחותך את BF ואת AD

בנקודות M ו-N בהתאמה.

חשב את היחס $\frac{LM}{MN}$.

ג. נתון $BE = EF$.

האם אפשר לחסום את המרובע ABFD במעגל? נמק את קביעתך.

5. ABCD הוא טרפז חסום במעגל ($AB \parallel DC$).

נתון: $AB = a$, $CD = b$, $(a < b)$.

$\angle C = 60^\circ$.

א. הבע את שוקי הטרפז, BC ו-AD, באמצעות a ו-b.

נתון: $a = 4$, אורך האלכסון BD הוא $4\sqrt{7}$.

ב. חשב את b.

ג. (1) הוא רדיוס המעגל החוסם את הטרפז. מצא את R.

(2) הסבר מדוע אפשר לחסום מעגל בטרפז ABCD.

(3) הוא רדיוס המעגל החסום בטרפז. מצא את r.

**פרק שלישי – חשבון דיפרנציאלי ואינטגרלי של פולינומים,
של פונקציות שורש, של פונקציות רציונליות
ושל פונקציות טריגונומטריות (40 נקודות)**

ענה על שתיים מן השאלות 6-8 (לכל שאלה – 20 נקודות).
שים לב! אם תענה על יותר משתי שאלות, ייבדקו רק שתי התשובות הראשונות שבמתברתך.

6. נתונה הפונקציה $f(x) = a - \frac{2}{x-2} + \frac{1}{(x-2)^2}$. a הוא פרמטר.

ענה על סעיף א. הבע את תשובותיך באמצעות a במידת הצורך.

א. (1) מצא את תחום ההגדרה של הפונקציה $f(x)$.

(2) מצא את המשוואות של האסימפטוטות המאונכות לצירים.

(3) מצא את שיעורי נקודות הקיצון של הפונקציה $f(x)$ (אם יש כאלה), וקבע את סוגן.

(4) מצא את תחומי העלייה והירידה של הפונקציה $f(x)$.

נתון כי גרף הפונקציה $f(x)$ משיק לציר ה- x .

ב. מצא את a .

הצב את הערך של a שמצאת וענה על הסעיפים ג-ד.

ג. סרטט סקיצה של גרף הפונקציה $f(x)$.

ד. נתונה הפונקציה $g(x) = |f(x) + k|$.

ידוע שגרף הפונקציה $g(x)$ משיק לאסימפטוטה האופקית של גרף הפונקציה $f(x)$.

מצא את k (מצא את שתי האפשרויות). נמק את תשובתך.

7. לפניך הגרפים של הפונקציות $f(x)$ ו- $f'(x)$.

א. התאם בין הגרפים I ו-II

לבין הפונקציות $f(x)$ ו- $f'(x)$. נמק.

נתון: $f'(x) = x(x+b)^3$, $b > 1$ הוא פרמטר.

לגרף הפונקציה $f(x)$ יש נקודת פיתול ב- $x = -1$.

ב. מצא את b .

C ו-D הן נקודות החיתוך

של הפונקציות $f(x)$ ו- $f'(x)$

בתחום $x < 0$, כמתואר בציור.

הנקודות A ו-B נמצאות על הגרפים I ו-II

בהתאמה, כך שהישר AB מאונך לציר ה- x .

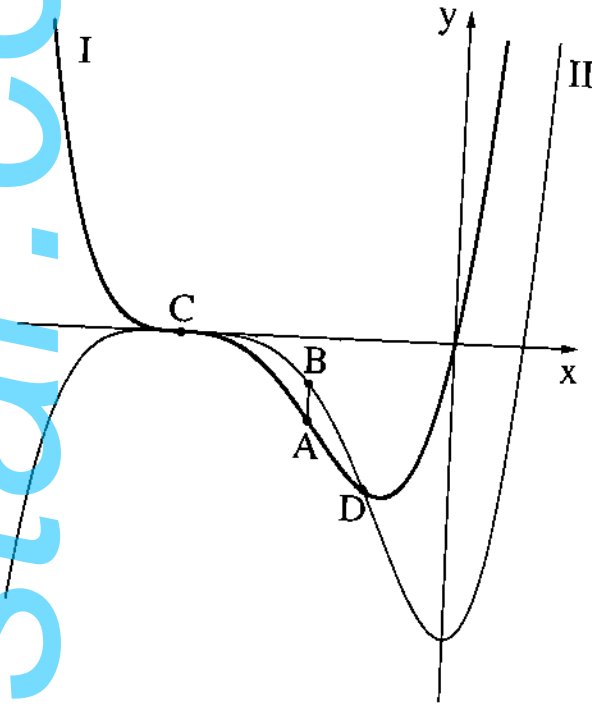
נתון: $x_C < x_A < x_D$,

$$x_C = -4$$

$$x_D = 1 - \sqrt{5}$$

ג. מצא את שיעור ה- x של הנקודות A ו-B שעבורו אורך הקטע AB הוא מקסימלי

(אפשר לפתור את הסעיף בלי למצוא את הפונקציה $f(x)$).



8. $f(x)$ היא פונקציה המוגדרת לכל x .

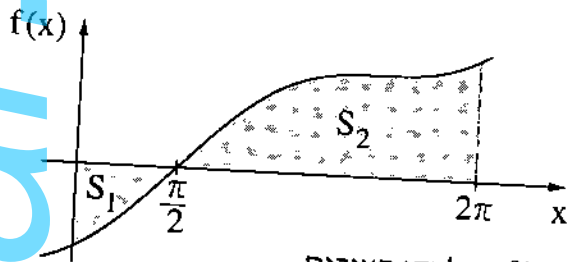
גרף הפונקציה $f(x)$ חותך את ציר ה- y בחלקו השלילי.

נקודת החיתוך היחידה של גרף הפונקציה $f(x)$ עם ציר ה- x היא $(\frac{\pi}{2}, 0)$ (ראה ציור).

נתון: השטח המוגבל על ידי גרף הפונקציה $f(x)$, על ידי הצירים ועל ידי הישר $x = 2\pi$

(השטח האפור בציור) שווה ל- $10\pi^2 + 16$.

נתון גם: $\int_0^{2\pi} f(x) dx = 8\pi^2$.



א. מצא את השטח המוגבל על ידי גרף הפונקציה $f(x)$ ועל ידי הצירים

(השטח S_1 המסומן בציור).

הפונקציה $F(x)$ היא פונקציה קדומה לפונקציה $f(x)$. נתון: $F(0) = 0$.

ב. מצא את $F(\frac{\pi}{2})$.

נתון: $f'(x) = 8 \sin x + 8$.

ג. מצא את $f(x)$.

בהצלחה!

זכות היוצרים שמורה למדינת ישראל
אין להעתיק או למסס אלא ברשות משרד החינוך